



NALOGA: Oglej si posnetek in spoznaj mali pisani črki ...

MALI PISANI ČRKI C IN Č



ODMOR ZA



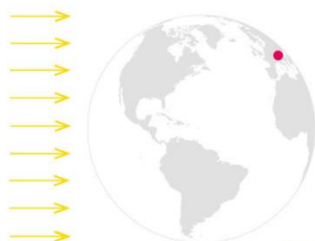
NALOGA: Najprej si oglej posnetek in nato reši naloge v zelenem delovnem zvezku na strani 44 in 45.



DAN IN NOČ

21 DAN IN NOČ

1. S temno barvo pobarvaj del Zemlje, kjer je noč, s svetlo pa del, kjer je dan.



2. Ugotovi, zakaj se izmenjujeta dan in noč.



POTREBUJEŠ:
• zatemnjen prostor
• žepno svetilko
• globus (ali žoga)
• plastelin

1. Na globusu poišči Slovenijo. Označi jo s koščkom plastelina.

2. Sošolec naj prižge svetilko in jo usmeri proti globusu.

3. Počasi vrti globus in opazuj, kdaj je Slovenija osvetljena in kdaj ni.




NOČ IN DAN SE IZMENJUJETA ZARADI VRTENJA ZEMLJE OKOLI SVOJE OSI.

44 Učni cilj in medpredmetne povezave:
– Učence časovno opredeli potek dogodkov. (+ SLJ, MAT)
– Učence pri opisovanju dogodkov uporabijo imenice: prejšnji, sedanj, prihodnji, zgodnja, pozidna, splošna, posebna, zvečer, ponoči. (+ SLJ, MAT)

3. Je bilo že svetlo, ko si se danes zjutraj zbudil(a)?
Se spomniš, ali je bilo ob začetku šolskega leta ob takšni uri že svetlo?

4. K vsaki sliki prilepi manjkajoči del, tako da bo položaj sonca ustrezen.



DOLŽINA DNEVA IN NOČI SE Z LETNIMI ČASI SPREMINJA.
POZIMI SO DNEVI KRAJŠI OD NOČI, POLETI PA DALJŠI.

5. Dopolni, da bo prav. Uporabi besedi **prej** in **kasneje**.

Spomla _____ poleti sonce _____ vzide in _____ zaide.

Jeseni in pozimi sonce _____ vzide in _____ zaide.

DODATNA NALOGA

45

ODMOR ZA






NALOGA: Reši naloge v modrem delovnem zvezku na strani 68, 69.

33 STOTIČNI KVADRAT

1. Stonoga ima omaro za čevlje s sto predali. Na nekaterih so se številke izbrisale. Zapiši jih.



2. Stonoga ima nogavičke v različnih barvah. Koliko jih ima v posamezni barvi?



$$\begin{array}{|c|c|} \hline D & E \\ \hline 3 & 9 \\ \hline \end{array} = \square$$



$$\begin{array}{|c|c|} \hline D & E \\ \hline & \\ \hline \end{array} = \square$$

Učni cilji in medpredmetne povezave:
 - Učenec pozna desetiške enote in stotični kvadrat.
 - Učenec zapiše in ponazarja števila do 100.

3. Nariši in zapiši število.

$$\begin{array}{|c|c|} \hline D & E \\ \hline 4 & 9 \\ \hline \end{array}$$



49

$$\begin{array}{|c|c|} \hline D & E \\ \hline 3 & 8 \\ \hline \end{array}$$

$$\begin{array}{|c|c|} \hline D & E \\ \hline 2 & 5 \\ \hline \end{array}$$

4. Nariši in zapiši število.

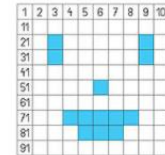
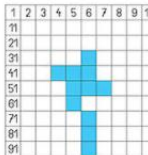
$$47 = \begin{array}{|c|c|} \hline D & E \\ \hline 4 & 7 \\ \hline \end{array}$$



$$27 = \begin{array}{|c|c|} \hline D & E \\ \hline & \\ \hline \end{array}$$

$$31 = \begin{array}{|c|c|} \hline D & E \\ \hline & \\ \hline \end{array}$$

5. Stotični kvadrat ni izpolnjen. Zapiši števila na modro obarvanih kvadratih.



36, 44, 45

DODATNA NALOGA

ODMOR ZA



NALOGA: Utrujemo znanje za ocenjevanje. Izberi si vsaj dve pesmi in se jih dobro nauči.

Pesmi:

Na planincah sončece sije - <https://www.youtube.com/watch?v=JTWJIBw8LGk>

Rasla je jelka - <https://www.youtube.com/watch?v=z0Fh4hch4AY>

Zima je prišla - <https://www.youtube.com/watch?v=cZHi3u78nwA>



Ura - <https://www.youtube.com/watch?v=6DtNTwRyaUo>

Žogica Nogica - https://www.youtube.com/watch?v=IYNVQZQ_DDE

Srečo radost voščimo in Starka Zima -

<https://drive.google.com/file/d/1jwAUuegXyBFzasQw87evVoWi8ljEvNS/view?usp=sharing>

Dežek - <https://drive.google.com/file/d/1UQmMYbFuZcifJNnRTkQoEjzfc46c-42D/view?usp=sharing>







Abeceda -

<https://drive.google.com/file/d/1NSLgVrTGqEHaKNaoPJhlvKhh9Qcw6jhG/view?usp=sharing>

Kotiček za bralne minutke

Glasno preberi besedilo.

Budnica za medveda

Na medvedova  je trkal  : »Vstani,
, v  je prišla pomlad!« Skozi
 ga je vabila  : »Pridi, zime je
konec!« Tudi  ga je klical zaman.
 je zvonil v prazno. Takrat je na
 pred medvedovo  priletela
 in nežno zažvrgolela.  je
široko odprl  in prisluhnil. Skočil je iz
 in kar v  stekel pozdraviti toplo
pomladansko  .



Želiva ti lep in uspešen dan.
učiteljci Ines in Monika

